

# Tribunal de Justiça do Estado do Pará

## CONCURSO PÚBLICO Nível Superior

Cargo: **1** ANALISTA JUDICIÁRIO  
Área: Administrativa

Aplicação: 7/5/2006



**MANHÃ**

**Caderno 25**

Leia com atenção as instruções abaixo.

- 1 Ao receber este caderno, confira atentamente se o tipo de caderno — CADERNO 25 — coincide com o que está registrado em sua folha de respostas. Em seguida, verifique se ele contém quarenta questões, correspondentes às provas objetivas, corretamente ordenadas de 1 a 40, seguidas da prova discursiva.
- 2 Caso o caderno esteja incompleto ou tenha qualquer defeito, solicite ao fiscal de sala mais próximo que tome as providências cabíveis.
- 3 O espaço para rascunho da prova discursiva é de uso opcional; não contará, portanto, para efeito de avaliação.
- 4 Não utilize lápis, lapiseira, borracha e(ou) qualquer material de consulta que não seja fornecido pelo CESPE/UnB.
- 5 Não serão distribuídas folhas suplementares para rascunho nem para texto definitivo.
- 6 Não se comunique com outros candidatos nem se levante sem autorização do chefe de sala.
- 7 A duração das provas é de **quatro horas**, já incluído o tempo destinado à identificação — que será feita no decorrer das provas —, ao preenchimento da folha de respostas e à transcrição do texto definitivo da prova discursiva para a folha de texto definitivo.
- 8 Na prova discursiva, não será avaliado texto escrito a lápis, texto escrito em local indevido ou texto que tenha identificação fora do local apropriado.
- 9 Ao terminar as provas, chame o fiscal de sala mais próximo, devolva-lhe a sua folha de respostas e a folha de texto definitivo da prova discursiva e deixe o local de provas.
- 10 A desobediência a qualquer uma das determinações constantes no presente caderno, na folha de respostas ou na folha de texto definitivo da prova discursiva poderá implicar a anulação das suas provas.

#### AGENDA

- I 9/5/2006, após as 19 h (horário de Brasília) – Gabaritos oficiais preliminares das provas objetivas: Internet — [www.cespe.unb.br/concursos/tjpa2006](http://www.cespe.unb.br/concursos/tjpa2006).
- II 10 e 11/5/2006 – Recurso (provas objetivas): exclusivamente no Sistema Eletrônico de Interposição de Recurso, Internet — [www.cespe.unb.br/concursos/tjpa2006](http://www.cespe.unb.br/concursos/tjpa2006), mediante instruções e formulários que estarão disponíveis nesse endereço.
- III 31/5/2006 – Resultado final das provas objetivas, resultado provisório da prova discursiva e convocação para avaliação de títulos: Diário da Justiça do Estado do Pará e Internet — [www.cespe.unb.br/concursos/tjpa2006](http://www.cespe.unb.br/concursos/tjpa2006).
- IV 1.º e 2/6/2006 – Recurso (prova discursiva) e entrega de títulos: em locais e horários que serão informados na divulgação do resultado provisório.

#### OBSERVAÇÕES

- Não serão objeto de conhecimento recursos em desacordo com o item 13 do Edital n.º 1/2006 – TJPA, de 1.º/3/2006.
- Informações adicionais: telefone 0(XX) 61 3448-0100; Internet — [www.cespe.unb.br/concursos/tjpa2006](http://www.cespe.unb.br/concursos/tjpa2006).
- É permitida a reprodução deste material apenas para fins didáticos, desde que citada a fonte.

**CESPE UnB**  
UNIVERSIDADE DE BRASÍLIA

QUESTÃO	RESPOSTA
1	(A) (B) (C) (D)
2	(A) (B) (C) (D)
3	(A) (B) (C) (D)
4	(A) (B) (C) (D)
5	(A) (B) (C) (D)
6	(A) (B) (C) (D)
7	(A) (B) (C) (D)
8	(A) (B) (C) (D)
9	(A) (B) (C) (D)
10	(A) (B) (C) (D)

QUESTÃO	RESPOSTA
11	(A) (B) (C) (D)
12	(A) (B) (C) (D)
13	(A) (B) (C) (D)
14	(A) (B) (C) (D)
15	(A) (B) (C) (D)
16	(A) (B) (C) (D)
17	(A) (B) (C) (D)
18	(A) (B) (C) (D)
19	(A) (B) (C) (D)
20	(A) (B) (C) (D)

QUESTÃO	RESPOSTA
21	(A) (B) (C) (D)
22	(A) (B) (C) (D)
23	(A) (B) (C) (D)
24	(A) (B) (C) (D)
25	(A) (B) (C) (D)
26	(A) (B) (C) (D)
27	(A) (B) (C) (D)
28	(A) (B) (C) (D)
29	(A) (B) (C) (D)
30	(A) (B) (C) (D)

QUESTÃO	RESPOSTA
31	(A) (B) (C) (D)
32	(A) (B) (C) (D)
33	(A) (B) (C) (D)
34	(A) (B) (C) (D)
35	(A) (B) (C) (D)
36	(A) (B) (C) (D)
37	(A) (B) (C) (D)
38	(A) (B) (C) (D)
39	(A) (B) (C) (D)
40	(A) (B) (C) (D)

- Nas questões de 1 a 40, marque, em cada uma, a única opção correta, de acordo com o respectivo comando. Para as devidas marcações, use, caso deseje, o rascunho acima e, posteriormente, a **folha de respostas**, único documento válido para a correção das suas provas.
- Nas questões que avaliam **Noções de Informática**, a menos que seja explicitamente informado o contrário, considere que todos os programas mencionados estão em configuração-padrão, em português, que o *mouse* está configurado para pessoas destras e que expressões como clicar, clique simples e clique duplo referem-se a cliques com o botão esquerdo do *mouse*. Considere também que não há restrições de proteção, de funcionamento e de uso em relação aos programas, arquivos, diretórios e equipamentos mencionados.

## CONHECIMENTOS BÁSICOS

### Texto para as questões 1 e 2

- 1 É preciso ter cuidado com as palavras. Elas são verdadeiras armas. Algumas vezes mortais. Certas pessoas têm o dom de dizer as mais afiadas, que entram feito uma
- 4 flecha envenenada. Porém, em muitos casos, o atingido é aquele que usou a arma, ou seja, o falador. Esse, por exemplo, pode sofrer horríveis arrependimentos por ter dito o que não
- 7 deveria ter dito. Mas como não dizer aquilo que pensamos?
- Há maneiras de dizer sem dizer, e de dizer, desdizendo.

Ana Miranda. *O oráculo insondável*. In: *Correio Braziliense*, Caderno C, p. 10, 2/4/2006 (com adaptações).

#### QUESTÃO 1

Assinale a opção **incorreta** com relação à argumentação do texto.

- (A) As palavras podem ter conseqüências tão perigosas quanto as armas, que têm a capacidade de ferir mortalmente.
- (B) Palavras devem ser usadas com cuidado, pois podem ter conseqüências nefastas tanto para quem as ouve quanto para quem as pronuncia.
- (C) Em todas as circunstâncias, é mais prudente não dizer nada porque as palavras são perigosas e, uma vez ditas, não são recolhidas.
- (D) O perigo das palavras recomenda que se empregue cautela ao dizê-las, pois a maneira de dizer pode ser tão importante quanto o próprio dizer.

#### QUESTÃO 2

Constrói-se a textualidade estabelecendo-se relações de retomadas de sentido, em que certas palavras remetem a outras, em uma verdadeira cadeia de elos de coesão. Nesse sentido, assinale a opção **incorreta**.

- (A) “Algumas” (l.2) retoma “palavras” (l.1).
- (B) “que” (l.3) retoma a idéia de “palavras” (l.1).
- (C) “o falador” (l.5) retoma “o atingido” (l.4).
- (D) “Esse” (l.5) retoma e demonstra “o falador” (l.5).

### Texto para as questões de 3 a 5

- 1 A democracia do Estado contemporâneo necessita, de maneira imprescindível, da consagração da supremacia constitucional e do respeito aos direitos fundamentais, que
- 4 somente estarão presentes nos países em que houver um Judiciário forte, dotado de plena independência e que possa efetivar suas decisões. A independência judicial constitui
- 7 direito dos cidadãos, e é triste um país que não a possui.

O magistrado, no momento de julgar, não pode receber ordens de nenhuma autoridade interna ou externa, sendo essa

10 idéia essencial à independência do Judiciário.

- A maioria esmagadora dos juizes brasileiros dedicam suas vidas à luta por uma magistratura independente,
- 13 democrática, transparente e justa e jamais se esquecem da lição do grande Rui: “A autoridade da Justiça é moral, e sustenta-se pela moralidade de suas decisões”.

Alexandre de Moraes. *União pelo fortalecimento*. In: *Folha de S. Paulo*, 25/3/2006 (com adaptações).

#### QUESTÃO 3

Assinale a opção que apresenta a idéia em torno da qual a argumentação do texto se organiza.

- (A) O direito dos cidadãos, consubstanciado em um Poder Judiciário forte, só é respeitado em uma democracia independente, transparente, soberana e justa.
- (B) Um Poder Judiciário forte e independente é direito dos cidadãos e pilar de sustentação da supremacia constitucional em um Estado democrático.
- (C) O respeito à independência do magistrado no momento de julgar, negando-se a receber ordens de autoridade interna ou externa, já foi lema de Rui Barbosa.
- (D) A luta dos juizes brasileiros por uma magistratura independente e democrática vai de encontro ao direito dos cidadãos que acreditam que a ‘autoridade da Justiça é moral’ (l.14).

**QUESTÃO 4**

No desenvolvimento da argumentação do texto, as formas verbais que indicam uma probabilidade ou suposição **não** incluem

- A “estarão” (l.4).
- B “houver” (l.4).
- C “possa” (l.5).
- D “sendo” (l.9).

**QUESTÃO 5**

Assinale a opção **incorreta** a respeito do emprego das estruturas lingüísticas no texto.

- A No trecho “A democracia (...) necessita, **de** maneira imprescindível, **da** consagração **da** supremacia constitucional e **do** respeito aos direitos fundamentais” (l.1-3), o uso da preposição **de** nos termos destacados é exigência da forma verbal “necessita”, para que sejam respeitadas as regras de regência gramatical.
- B As regras gramaticais do padrão culto da língua portuguesa exigem o emprego da preposição no termo “em que” (l.4), o que indica que esse termo pode ser substituído pelo pronome **onde**.
- C Nas linhas 4 e 5, a flexão de singular na forma verbal “possa” indica que o pronome “que” refere-se a “Judiciário” e não a “países”, como poderia ser depreendido da organização textual.
- D Seria preservada a coerência textual e a correção gramatical também com a alternativa de emprego da forma verbal “dedicam” (l.11) no singular: **dedica**.

**Texto para as questões de 6 a 8**

1 Desde que eu vou ao Fórum Econômico Mundial em Davos, nenhum país atçou a imaginação da conferência e dominou a discussão como a Índia em 2006.

4 O Estado indiano foi um estrondoso sucesso em uma frente. A democracia indiana é uma maravilha a ser observada. Um dos países mais pobres do mundo, ela manteve um governo democrático por mais de 60 anos. E essa é, certamente, uma das maiores virtudes do país quando comparado a muitos outros países em desenvolvimento.

10 A democracia dá lugar ao populismo, politicagem e perda de tempo. Mas também dá lugar à estabilidade no longo prazo. Há elementos da democracia que ferem, principalmente em um país com pobreza, feudalismo e analfabetismo galopantes. Democracia na Índia freqüentemente significou não a vontade da maioria, mas a vontade das minorias organizadas. Mas a democracia tem seus próprios meios de se reequilibrar.

Fareed Zakaria. **Por que a Índia é um exemplo.**  
In: **Época**, 6/3/2006 (com adaptações).

**QUESTÃO 6**

Julgue os seguintes itens, a respeito das idéias do texto.

- I O autor considera o regime democrático positivo, mesmo quando sofre adaptações.
- II O texto usa a Índia como exemplo de uma proposta de intervenção e reestruturação dos sistemas democráticos de governo nos países mais pobres.
- III A tese defendida pela argumentação do texto é a de que o Fórum Econômico Mundial de Davos tem valorizado aspectos políticos, como a democracia nos países pobres.

A quantidade de itens certos é igual a

- A 0.
- B 1.
- C 2.
- D 3.

**QUESTÃO 7**

Pelo tema abordado, o texto pode integrar um documento oficial, como um relatório ou um parecer, por exemplo. Assinale a opção que representa uma alteração necessária para que o texto respeite, também na forma, as normas de redação de documentos oficiais.

- A Reescrever a primeira oração de maneira menos pessoal: **Desde que existe o Fórum Econômico Mundial de Davos.**
- B Substituir a preposição “por” (l.7) por outra de regência mais formal: **durante**.
- C Retirar a idéia de avaliação sugerida pela comparação com “outros países em desenvolvimento” (l.9).
- D Substituir as duas ocorrências da expressão coloquial “dá lugar” (l.10) pelo verbo, mais formal, **cede**.

**QUESTÃO 8**

No texto, os trechos que se apresentam na voz passiva, ou seja, estabelecem uma relação em que o sujeito verbal recebe a ação incluem

- I “O Estado indiano foi um estrondoso sucesso” (l.4).
- II “uma maravilha a ser observada” (l.5-6).
- III “quando comparado a muitos outros países” (l.8-9).
- IV “Há elementos da democracia” (l.12).
- V “seus próprios meios de se reequilibrar” (l.16-17).

Estão certos apenas os itens

- A I e IV.
- B I e V.
- C II e III.
- D III, IV e V.

## Texto para as questões 9 e 10

1 Se separarmos da palavra civilização as noções de utilitarismo e progressismo, dadas pelo senso comum e pelo pensamento conservador (“desenvolvimento da indústria e do comércio, aquisição de bens materiais e de luxo”), e restituirmos a ela o sentido original, “fineza dos costumes”, “educação dos espíritos”, “desenvolvimento da polidez”, 7 “cultura das artes e das ciências”, podemos dizer então que a civilização está a perigo.

No plano político, no lugar da antiga idéia de 10 Constituição e respeito à cidadania, o termo civilização passou a ser associado a *performance*, espetáculo, *marketing*, simulação e, principalmente, eficácia.

Adauto Novaes. *Sobre tempo e história*. In: Adauto Novaes (Org.). *Tempo e história* (com adaptações).

### QUESTÃO 9

Infere-se da argumentação do texto que “a civilização está a perigo” (l.8) porque

- A não se separa, do pensamento conservador, a noção de espetáculo e *performance*.
- B passou a representar o pensamento conservador do senso comum, em lugar da Constituição.
- C a eficácia, em lugar da civilização, deu lugar ao utilitarismo e progressismo, associando-se a simulação.
- D não representa mais ‘fineza dos costumes’ (l.5), ‘educação dos espíritos’ (l.6), ‘desenvolvimento da polidez’ (l.6) ou ‘cultura das artes e das ciências’ (l.7).

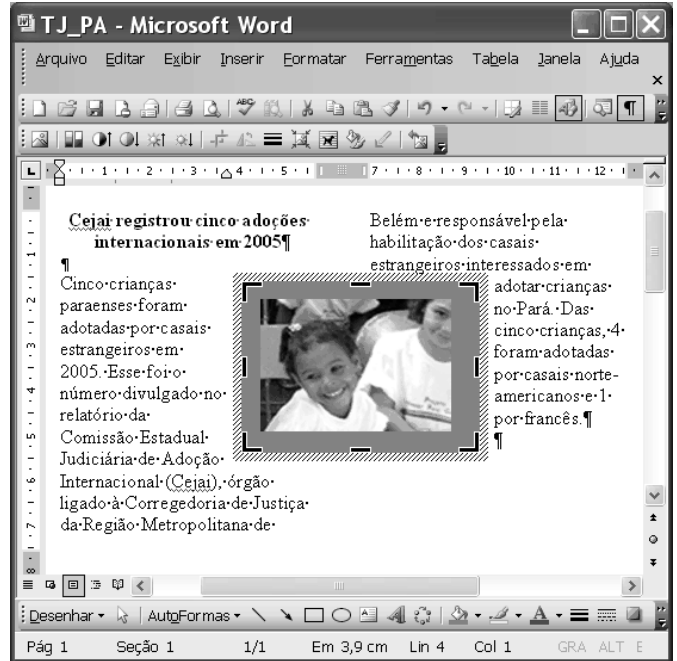
### QUESTÃO 10

Assinale a opção em que a alteração proposta para o texto prejudica sua coerência ou resulta em incorreção gramatical.

- A Inserção de duas vírgulas, na linha 1: depois de “separarmos” e depois de “civilização”.
- B Substituição de “restituirmos a ela” (l.5) por **lhe restituirmos**.
- C Retirada da vírgula que antecede a oração iniciada por “podemos” (l.7).
- D Inserção da preposição **a** antes de “eficácia” (l.12).





## Texto para as questões de 11 a 13

A figura a seguir ilustra uma janela do Word 2003 que está sendo executado em um computador cujo sistema operacional é o Windows XP. O documento em elaboração contém texto e imagem que foram extraídos de uma página *web* do sítio [www.tj.pa.gov.br](http://www.tj.pa.gov.br). A imagem está sobre uma tela de desenho.



### QUESTÃO 11

Considerando as informações do texto, assinale a opção correta.

- A Na situação em que se encontra a janela do Word, caso se teclasse , apenas a tela de desenho mencionada no texto será excluída, enquanto a imagem nela contida permanecerá no documento em edição.
- B O botão  permite abrir documento do tipo Word armazenado no computador, desde que o arquivo associado não esteja definido como somente para leitura. Caso o arquivo esteja com a referida definição, ele pode ser aberto por meio do botão .
- C O texto mostrado na janela do Word pode ter sido inserido no documento, a partir da página *web* mencionada, por meio de recursos de copiar e colar do Windows XP. No entanto, esse procedimento não funciona no caso de imagem, sendo necessário que ela seja copiada em arquivo, antes de ser inserida no documento.
- D Por meio de recursos disponibilizados ao se clicar , é possível realizar procedimento para inserir uma imagem no documento em edição, desde que ela esteja armazenada em arquivo.





**QUESTÃO 12**

Ainda considerando as informações do texto, assinale a opção **incorreta**.

- Ⓐ É possível inserir o termo **Tribunal de Justiça do Pará** como cabeçalho do documento em edição por meio de recursos acessados no menu **Editar**.
- Ⓑ É possível salvar o documento em edição com o nome TJ\_PA\_versão\_2.doc por meio de procedimento realizado unicamente via teclado.
- Ⓒ O procedimento descrito a seguir permite alterar a fonte, seu estilo e seu tamanho na primeira linha mostrada da primeira coluna do documento: selecionar a referida linha; clicar o botão direito do *mouse*; na lista disponibilizada, clicar opção que permite realizar as alterações mencionadas; na janela que é aberta em decorrência dessa ação, realizar as alterações desejadas.
- Ⓓ Na situação em que se encontra a janela do Word, é correto afirmar que o documento está formatado para duas colunas. É possível alterar essa formatação por meio de opção encontrada no menu **Formatar**.

**QUESTÃO 13**

Considerando a situação em que se encontra a janela do Word mostrada no texto, assinale a opção correta.

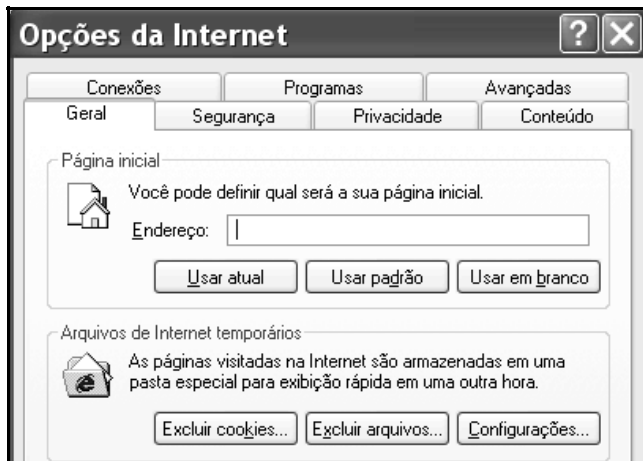
- Ⓐ Em função do posicionamento da tela de desenho com relação ao texto, é correto inferir que os parágrafos mostrados do documento não podem ser justificados às margens esquerda e direita.
- Ⓑ A tela de desenho mostrada pode ter sido inserida no documento por meio de recursos disponibilizados ao se clicar o botão .
- Ⓒ Os botões  e  permitem alterar a cor de fundo da tela de desenho que está sob a imagem mostrada no documento.
- Ⓓ É possível inserir uma moldura na tela de desenho mostrada por meio do botão .

**QUESTÃO 14**

A figura acima ilustra parte da janela que contém as propriedades de uma conta de *e-mail* configurada no Outlook Express 6 (OE6). Considerando essa figura, assinale a opção correta.

- Ⓐ Ao se clicar a guia **Avançado**, será disponibilizado recurso que permite configurar o OE6 de modo que, ao se receber uma mensagem de correio eletrônico, o nome e o endereço de *e-mail* do remetente seja adicionado ao catálogo de endereços do OE6.
- Ⓑ Para evitar que pessoas não-autorizadas acessem a conta “José”, pode-se configurar uma senha, por meio de recursos encontrados na guia **Servidores**, de maneira que seja feita a solicitação para fornecimento dessa senha toda vez que se execute o OE6 para realizar procedimento de enviar ou receber uma mensagem de *e-mail*.
- Ⓒ O OE6 permite que se faça, em pasta específica do computador, *backup* das respostas às mensagens recebidas. Para isso, é suficiente digitar no campo **Endereço para resposta:** o endereço da pasta em que se deseja fazer o *backup*.
- Ⓓ Caso a marcação mostrada na janela — referente a incluir esta conta ao receber ou sincronizar *e-mails* — seja desabilitada, a conta “José” não poderá ser utilizada para enviar ou receber mensagens de correio por meio do OE6.

**QUESTÃO 15**



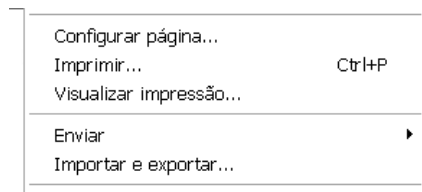
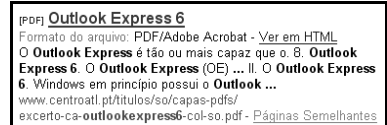
A figura acima ilustra parte da janela Opções da Internet que foi executada em um computador cujo sistema operacional é o Windows XP, a partir do *menu* Ferramentas do Internet Explorer 6 (IE6). Considerando essa figura, assinale a opção correta.

- A Por meio do botão **Excluir cookies...**, é possível excluir todos os *cookies* que estejam armazenados no computador como resultado de sessões de uso do IE6, enquanto que o botão **Configurações...** disponibiliza recursos que permitem excluir apenas *cookies* selecionados.
- B Considere que se deseje configurar o IE6 de forma que seja gerada uma mensagem de alerta quando se acessar determinado sítio na Internet. Nessa situação, a guia **Conexões** disponibiliza recursos que permitem elaborar uma lista de sítios para os quais, quando forem acessados, o IE6 gerará a mensagem mencionada.
- C Recursos da guia **Programas** permitem definir o programa antivírus que será usado quando se acessar a Internet por meio do IE6. Esses recursos permitem definir também o tipo de certificado de segurança que será usado ao se acessar sítios em que são realizadas transações sigilosas, como no acesso a sítios de bancos.
- D Na guia **Privacidade**, existem recursos que permitem definir, em uma lista, todos os sítios da Web que se deseja ter acesso permitido. Dessa forma, apenas os sítios que estejam nessa lista podem ser acessados por meio do IE6.

**QUESTÃO 16**

Assinale a opção correta, com relação a conceitos de Internet, correio eletrônico e aplicativos desenvolvidos para uso em redes de computadores.

- A Os programas de correio eletrônico Outlook e Outlook Express foram desenvolvidos pela Microsoft para serem executados em computadores com o Windows XP instalado. Ao contrário do Outlook, que pode ser obtido gratuitamente na Internet por *download*, o Outlook Express faz parte do pacote de aplicativos Microsoft Office e, portanto, necessita de licença para uso.
- B Mozilla é uma organização que desenvolve aplicativos voltados para a Internet que podem ser utilizados gratuitamente. Entre eles está o Firefox, o qual é uma família de aplicativos que inclui *browser*, correio eletrônico e editor de HTML, que é a linguagem de criação de páginas *web* na Internet.
- C Considere que as informações mostradas no quadro ao lado tenham sido obtidas como resultado de uma pesquisa realizada na Internet. Nessa situação, é correto inferir que a página *web* associada a essas informações não pertence a um sítio brasileiro e, caso se clique o *hyperlink* **Outlook Express 6**, será realizado o *download* de um arquivo no formato PDF.
- D A figura a seguir mostra parte das opções do *menu* **Arquivo** do IE6. Recursos disponibilizados ao se clicar **Importar e exportar...** permitem salvar a página atual do IE6 como arquivo do tipo Word, bem como permitem inserir o conteúdo de um arquivo do tipo Word em página *web* em desenvolvimento.



**QUESTÃO 17**

Considere a situação em que um usuário deseje gravar uma cópia de segurança de cinco arquivos que, juntos, ocupem uma quantidade de memória de 1,5 *megabytes*. Com relação a essa situação, assinale a opção correta.

- A Com o uso do programa WinZip 8.1, é possível compactar o grupo de arquivos citado, salvando-os em apenas um arquivo do tipo WinZip.
- B Esses cinco arquivos não poderiam ser armazenados sem compactação em um dispositivo do tipo *pen-drive*, pois o limite de memória desse tipo de dispositivo é inferior a 1 bilhão de *bytes*, que é inferior a 1,5 *megabyte*.
- C Uma grande desvantagem dos dispositivos do tipo CD-ROM é o fato de terem capacidade máxima de armazenamento de 300 milhões de *bytes*.
- D Os dispositivos não-voláteis de armazenamento mais eficientes disponíveis atualmente são as memórias RAM, que, além disso, não consomem energia.

**QUESTÃO 18**

Em computadores que utilizam como sistema operacional o Windows XP, é possível configurar a resolução da tela do monitor de vídeo por meio da janela Propriedades de vídeo. Assinale a opção que apresenta uma forma correta de abrir essa janela.

- A Clicar, com o botão direito do *mouse*, um ponto sem ícones da *desktop* do Windows e clicar Propriedades.
- B Clicar, com o botão direito do *mouse*, um ponto sem ícones da barra de tarefas do Windows e clicar Propriedades.
- C Clicar, com o botão direito do *mouse*, sobre o ícone associado à lixeira do Windows e clicar Propriedades.
- D Aplicar um clique duplo no ícone associado à pasta Meu computador.






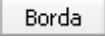
**Texto para as questões 19 e 20**

A janela do Excel 2003 ilustrada a seguir apresenta algumas tabelas de custas judiciais extrajudiciais, em processo de edição, extraídas e adaptadas do sítio [www.tj.pa.gov.br](http://www.tj.pa.gov.br). A janela encontra-se em execução em um computador PC cujo sistema operacional é o Windows XP.

	A	B	C
1	Tabelas de custas judiciais extrajudiciais		
2			
3			valor (R\$)
4		casamento	111,40
5		nos cartórios	222,80
6		a domicílio	223,70
7		após as 18 h	223,70
8		Máximo valor da tabela	223,70
9		assentos	37,60
10		no prazo	68,80
11		fora do prazo	66,80
12		fora do prazo legal	
		Máximo valor da tabela	




**QUESTÃO 19**

Com base na situação em que se encontra a janela mencionada no texto, assinale a opção **incorreta** acerca do Excel 2003.

- A O conteúdo da célula C7 pode ter sido obtido utilizando-se recursos disponibilizados pelo conjunto de botões .
- B O conteúdo da célula C11 será igual a 68,80 após a execução do seguinte procedimento: clicar a célula C7; pressionar e manter pressionada a tecla ; teclar ; clicar a célula C11; teclar ; liberar a tecla .
- C Considere que o conteúdo da célula C5 contenha a fórmula =2\*C\$4. Caso esse conteúdo seja copiado e colado na célula C9, o valor numérico da célula C9 passará a ser igual a 75,20.
- D O efeito mostrado no conjunto de células mescladas A3 e B3 pode ter sido obtido por meio de recursos disponibilizados ao se clicar a guia  na janela do Excel 2003 parcialmente mostrada na figura a seguir.

**QUESTÃO 20**

Ainda com base na situação em que se encontra a janela mencionada no texto, assinale a opção correta acerca do Excel 2003.

- A O comentário associado à célula C7 pode ter sido inserido na planilha ao se clicar o botão  e digitar o comentário apresentado na figura.
- B Ao se clicar o botão , será executada uma janela do Internet Explorer.
- C O conteúdo da célula C9 será igual a 688,0, caso o botão  seja clicado, após se ter clicado a referida célula.
- D Pelo efeito de texto mostrado na janela do Excel, o conjunto de células mescladas de A1 a C2 pode estar formatado para alinhamento horizontal e vertical central e para retorno automático de texto.

## CONHECIMENTOS ESPECÍFICOS

### QUESTÃO 21

Julgue os itens abaixo, relativos à ética no serviço público e à qualidade no atendimento ao público.

- I Os valores fundamentais do serviço público decorrem exclusivamente do seu caráter público.
- II O princípio da impessoalidade, na administração pública, vem acompanhado dos valores da igualdade e da imparcialidade, ou seja, todos têm o mesmo valor como cidadãos e merecem o mesmo tratamento, exceto os casos mais peculiares, que devem ser considerados de forma parcial.
- III Tratar cuidadosamente os usuários dos serviços, aperfeiçoando o processo de comunicação e contato com o público é um dos principais deveres do servidor público.
- IV Permitir a formação de longas filas, ou qualquer outra espécie de atraso na prestação do serviço, é agir contra a ética.

Estão certos apenas os itens

- A I e II.
- B I e III.
- C II e IV.
- D III e IV.

### QUESTÃO 22

Julgue os itens a seguir, acerca do trabalho em equipe.

- I Um grupo transforma-se em equipe quando os membros passam a prestar atenção a sua forma de trabalhar e procuram resolver os problemas que afetam o seu funcionamento.
- II O papel da comunicação não é tão importante quanto as habilidades sociais de colaboração e de apoio para a eficácia do trabalho em equipe.
- III Uma das maneiras de lidar com as dificuldades de relações nas equipes é estimular a criação de confiança entre os membros.
- IV O funcionamento não-harmonioso da equipe permite que seus membros possam concentrar-se em melhorar os processos de trabalho, apesar das disputas internas.

A quantidade de itens certos é igual a

- A 1.
- B 2.
- C 3.
- D 4.

### QUESTÃO 23

Considerando os princípios básicos da Arquivologia, conforme a legislação brasileira, sobretudo aqueles relativos aos arquivos e à gestão de documentos públicos e de caráter público, julgue os itens a seguir.

- I São considerados arquivos públicos apenas os conjuntos de documentos oficiais, dotados de importância histórica, selecionados e colecionados por órgãos públicos ou instituições de caráter público, ao longo de sua existência, visando contribuir com a educação, a cultura e a memória nacional.
- II Gestão de documentos, ou gestão documental, é o conjunto dos procedimentos e operações técnicas que envolvem os documentos desde a sua produção, passando por seu uso e tramitação, até sua avaliação e arquivamento. A gestão lida com os documentos correntes, ou seja, aqueles que estão em curso ou que, mesmo sem movimentação, são consultados freqüentemente; e com os documentos intermediários, isto é, que já não são de uso corrente nos órgãos produtores, mas precisam ser guardados devido a razões administrativas ou jurídicas.
- III A legislação define que a gestão documental e a proteção aos documentos de arquivo são deveres do poder público, pois os documentos, quando organizados, são considerados, por um lado, fundamentais instrumentos de apoio à eficácia administrativa no gerenciamento de informações e, por outro, importantes para o desenvolvimento da cultura e das ciências.
- IV Todos os documentos ou informações produzidos nos órgãos públicos, ou instituições de caráter público, somente poderão ser disponibilizados aos cidadãos quando houver autorização por parte do Poder Judiciário, e apenas nos casos em que tal informação for indispensável à defesa de direito próprio.
- V Nos arquivos estaduais do Poder Judiciário, como nos demais integrantes do Sistema Nacional de Arquivos, os documentos correntes devem ser organizados segundo o modelo estabelecido pelo Código de Classificação de Documentos de Arquivo para a Administração Pública: Atividades-Meio, publicado pelo Arquivo Nacional. Cada órgão deve complementar o código com classes relativas às suas atividades específicas, ou atividades-fim.

Estão certos apenas os itens

- A I, II e V.
- B I, III e IV.
- C II, III e V.
- D II, IV e V.

**QUESTÃO 24**

A questão da avaliação de documentos é uma das mais importantes no contexto da teoria arquivística. Considerando a legislação vigente, assinale a opção correta acerca da eliminação de documentos de arquivo de valor permanente oriundos do Poder Judiciário.

- Ⓐ A eliminação é prevista em lei e autorizada para todos os processos cujo arquivamento tenha ocorrido há mais de trinta anos.
- Ⓑ Nunca poderá ocorrer eliminação, devendo tais documentos ser preservados indefinidamente.
- Ⓒ Quando ocorrer eliminação de documentos, deverá ser utilizada a fragmentação mecânica, por questões de segurança das informações e a fim de possibilitar a reciclagem dos papéis.
- Ⓓ A eliminação é permitida apenas quando prevista em tabela de temporalidade, devendo ocorrer no processo de transferência para o arquivo intermediário.

**QUESTÃO 25**

Para a administração financeira, o objetivo econômico das empresas é a maximização de seu valor de mercado, pois dessa forma estará sendo aumentada a riqueza de seus proprietários (acionistas de sociedade por ações ou sócios de outros tipos de sociedades).

Masakazu Hoji. *Administração financeira*. 3.ª ed. São Paulo: Atlas, 2001, p. 21 (com adaptações).

Acerca da administração financeira, assinale a opção correta.

- Ⓐ Na busca da maximização do valor da empresa, o administrador financeiro deve procurar investir em ativos que apresentem os menores riscos.
- Ⓑ Na utilização do regime de competência para apurar o resultado econômico e avaliar a rentabilidade de suas operações, as organizações consideram as receitas no momento do recebimento do recurso financeiro resultante de um negócio.
- Ⓒ Ativo circulante, passivo circulante, ativo realizável de longo prazo e passivo exigível de longo prazo são informações utilizadas no cálculo do índice de liquidez geral.
- Ⓓ Considerando a hipótese de que os dados abaixo tenham sido extraídos das demonstrações financeiras de uma organização, então é correto afirmar que seu índice de liquidez seca é superior a 1,30.

ativo total	R\$ 100.000,00
ativo circulante	R\$ 40.000,00
caixa	R\$ 3.000,00
estoques	R\$ 9.000,00
passivo total	R\$ 50.000,00
passivo circulante	R\$ 25.000,00

**QUESTÃO 26**

A economia globalizada, entre outros aspectos, tem gerado nas empresas brasileiras necessidade de cada vez maiores níveis de competitividade. Essa nova realidade exige das empresas novas formas de atuação e, conseqüentemente, de seus profissionais, novas habilidades e conhecimentos, como o domínio das técnicas de gestão financeira, além do profundo conhecimento do mercado onde suas organizações estão inseridas.

Considerando o texto acima como referência inicial, acerca de administração financeira, assinale a opção **incorreta**.

- Ⓐ Considere a hipótese de uma aplicação financeira por 30 dias, com valor de resgate de R\$ 35.000,00 e taxa de juros compostos de 2% ao mês. Nesse caso, seu valor presente é superior a R\$ 34.310,00.
- Ⓑ O cálculo do *payback* é utilizado para determinar o tempo necessário para a recuperação do investimento original.
- Ⓒ Um capital de R\$ 3.600,00, aplicado por 3 meses com juros de 1,4% ao mês pelo regime de capitalização composta, rende juros inferiores a R\$ 150,00.
- Ⓓ A taxa de juros nominal é igual à taxa de juros efetiva quando a taxa contratada e o período de capitalização estão na mesma unidade de tempo.

**QUESTÃO 27**

Pessoas com motivação, conhecimentos e habilidades coerentes com os desafios que a organização tem de enfrentar por causa da concorrência, da crescente consciência dos consumidores e das novas relações de trabalho é o que as organizações vêm buscando atualmente. A propósito dessa assertiva, assinale a opção **incorreta** acerca da administração de recursos humanos.

- Ⓐ Desenvolvimento de pessoas é o processo de aprendizagem que tem como foco dotar empregados de habilidades mais amplas, que proporcionem oportunidades de desenvolvimento e crescimento profissional.
- Ⓑ Renovar a cultura organizacional existente e motivar e encorajar o desenvolvimento profissional dos próprios empregados são vantagens do processo de recrutamento externo.
- Ⓒ O treinamento tem sido utilizado como uma poderosa ferramenta destinada a tornar as pessoas mais produtivas. A esse respeito, é correto utilizar programas de treinamento para promover o desenvolvimento de atitudes e conceitos.
- Ⓓ A avaliação de desempenho possibilita identificar dificuldades de adequação da pessoa ao cargo ocupado e carências de treinamento.

**RASCUNHO**

**QUESTÃO 28**

A administração de recursos humanos é caracterizada como a função organizacional responsável pela coordenação das atividades de provisão, treinamento, desenvolvimento, motivação e manutenção dos recursos humanos. A esse respeito, assinale a opção correta.

- A** Enriquecimento horizontal do cargo é uma forma de adaptação do cargo ao potencial do ocupante por meio da adição de tarefas mais complexas que as atuais.
- B** Rotação de cargos é um método de desenvolvimento de pessoas baseado na movimentação do empregado para posições que requeriam atribuições mais complexas ou novos conhecimentos com a mesma complexidade.
- C** A delegação deve ser evitada em situações operacionais que se modifiquem com frequência e que requeiram agilidade na tomada de decisão, a fim de possibilitar maior nível de controle e padronização das tarefas dos empregados de níveis hierárquicos mais baixos.
- D** A unidade de recursos humanos atua de forma consultiva para as unidades organizacionais quando a organização mantém centralizada a administração de recursos humanos.

**QUESTÃO 29**

Planejamento estratégico de recursos humanos tem como objetivos contribuir para o alcance dos objetivos da organização e propiciar o alcance dos objetivos dos empregados. A esse respeito, assinale a opção correta.

- A** O processo de planejamento de recursos humanos requer adequada modelagem de cargos. A etapa da modelagem de cargos responsável pela descrição dos conhecimentos e habilidades necessárias para o desempenho do cargo é chamada descrição do cargo.
- B** Chama-se planejamento estratégico de recursos humanos integrado aquele que ocorre imediatamente após a elaboração do planejamento estratégico da organização e procura se adaptar a ele para contribuir na sua implementação.
- C** Prestação de novos serviços e ampliação do horário de atendimento são decisões que impactam as previsões de suprimento de mão-de-obra.
- D** O modelo de planejamento de recursos humanos baseado no fluxo de pessoal é adequado para organizações estáveis e sem pretensões de ampliação de suas atividades.

**QUESTÃO 30**

Acerca da administração de materiais, julgue os itens a seguir.

- I** Surgimento de novos fornecedores para o mesmo bem, aumento da quantidade a ser adquirida, surgimento de materiais similares com a mesma qualidade são situações que permitem melhorar as condições de compra.
- II** Especificar adequadamente o bem a ser adquirido, comprar na quantidade certa e qualidade esperada, armazenar adequadamente o material em estoque, distribuir o material necessário às unidades organizacionais são funções da administração de materiais.
- III** As modernas estratégias de negociação requerem que o negociador procure alternativas criativas que atendam não só os interesses de sua organização, mas também as necessidades do fornecedor.
- IV** Otimizar o investimento em estoques por meio da maximização das necessidades de capital investido é um dos objetivos da administração de materiais.

Estão certos apenas os itens

- A** I e III.
- B** I e IV.
- C** II e III.
- D** II e IV.

**RASCUNHO**

**QUESTÃO 31****RASCUNHO**

Considere que um material apresente o consumo mensal a seguir:

mês	unidades
janeiro	48
fevereiro	52
março	60
abril	64
maio	62
junho	58
julho	45

Sabendo que uma administração de estoques efetiva requer métodos consistentes de previsão de consumo dos materiais a serem adquiridos e com base nos dados apresentados, assinale a opção **incorreta**.

- A** O método da média móvel com ponderação exponencial soluciona algumas desvantagens de outros métodos, mas necessita de maior quantidade de dados de consumo.
- B** O modelo de evolução horizontal de consumo apresenta o consumo médio constante.
- C** Com base no método da média móvel para 3 períodos, a previsão de consumo para o mês de agosto é de 55 unidades.
- D** Se for utilizado o método da média móvel ponderada como previsão de consumo para o mês de agosto, os dados de junho e julho terão maior influência no resultado que os dados de janeiro e fevereiro.

**QUESTÃO 32**

Ainda acerca da administração de materiais, julgue os itens a seguir.

- I Se determinado material apresenta estoque mínimo de 30 dias de consumo, tempo de reposição de 45 dias, consumo mensal de 250 unidades e nenhum pedido pendente de atendimento, seu ponto de pedido é superior a 650 unidades.
- II O custo de armazenagem é máximo quando o estoque é máximo e é mínimo quando o estoque é zero.
- III A soma do estoque de segurança com o estoque mínimo resulta no estoque máximo.
- IV O método de classificação pela curva ABC tem como função classificar materiais quanto ao valor de consumo e a outros dados relevantes para a administração de materiais.

Estão certos apenas os itens

- A** I e III.
- B** I e IV.
- C** II e III.
- D** II e IV.

**QUESTÃO 33**

Acerca das partes no processo civil, assinale a opção correta.

- Ⓐ Quando uma pessoa relativamente incapaz ajuíza uma ação, esta deve ser representada, no processo, por seus pais, tutores ou curadores. O representante legal age por vontade própria, praticando validamente todos os atos processuais em substituição ao autor.
- Ⓑ As pessoas jurídicas e os entes sem personalidade jurídica podem participar da relação processual, como autoras ou rés, mediante seu representante legal, que pratica os atos da vida civil em nome delas, substituindo-as.
- Ⓒ Nas causas de natureza cível, necessariamente, deve haver um conflito de interesses entre os litigantes a ser dirimido pelo juízo, ou seja, uma lide. Assim, não se admite processo em que não haja a parte ré, pois a relação processual só se aperfeiçoa com a citação válida.
- Ⓓ Para propor e contestar uma ação, ainda que fundada em direito obrigacional, os cônjuges e as pessoas que viviam em união estável necessitam da outorga do consentimento do outro, porque a sentença que decidir a favor ou contra o autor irá atingir a esfera jurídica do outro consorte ou companheiro.

**QUESTÃO 34**

A respeito das comunicações dos atos processuais, assinale a opção correta.

- Ⓐ Se for proposta ação de estado em desfavor de determinada pessoa residente e domiciliada em comarca diversa da sede do juízo onde tramita a ação, a citação deverá ser feita pelo correio, com aviso de recebimento.
- Ⓑ Quando o oficial de justiça não conseguir encontrar o réu para pessoalmente citá-lo, apesar de procurá-lo por três vezes, em dias alternados e horários diferentes, uma vez em sua casa e nas demais em seu local de trabalho, o réu será considerado citado na forma presumida com hora certa.
- Ⓒ O advogado da parte beneficiária da justiça gratuita deve ser intimado pessoalmente de todos os atos do processo, ainda que residente em comarca diversa do juízo onde tramita a ação, sob pena de nulidade. O termo inicial do prazo, para o cumprimento da determinação judicial, conta-se da data em que o advogado opõe nota de ciência nos autos.
- Ⓓ A intimação feita por escrivão em cartório e a que decorre da prolação de decisão oral em audiência são atos processuais simples, que produzem instantaneamente toda sua eficácia jurídica, bastando que fiquem consignadas em termo nos autos.

**QUESTÃO 35**

A respeito da citação no processo penal, assinale a opção correta.

- Ⓐ A citação por carta rogatória tem cabimento quando o réu se encontra em lugar certo e sabido no Brasil, mas fora da comarca em que o juiz tem jurisdição.
- Ⓑ Quando o réu se oculta para não ser citado, a citação deverá ser feita por hora certa.
- Ⓒ Se o réu citado por edital não comparecer nem constituir advogado, o processo ficará suspenso, fluindo normalmente o prazo prescricional.
- Ⓓ No processo penal, a citação por precatória tem caráter itinerante.

**QUESTÃO 36**

Com referência à citação no processo penal brasileiro e de acordo com o que dispõe o Código de Processo Penal, assinale a opção **incorreta**.

- Ⓐ Se o acusado não comparecer para o interrogatório, o juiz poderá determinar que seja ele conduzido coercitivamente.
- Ⓑ No processo penal, a citação é sempre pessoal, não se admitindo citação por edital.
- Ⓒ Quando o acusado estiver fora do território da jurisdição do juiz processante, será citado mediante carta precatória.
- Ⓓ A citação do militar é feita por intermédio do chefe do respectivo serviço.

**QUESTÃO 37**

Acerca do Poder Judiciário, assinale a opção correta.

- Ⓐ O Poder Judiciário tem a função de implementação das políticas governamentais.
- Ⓑ A atividade jurisdicional no Brasil é monopólio do poder público.
- Ⓒ O Poder Judiciário manifesta-se de ofício nos conflitos entre os entes de direito público, ainda que não seja provocado.
- Ⓓ Após o ingresso na carreira da magistratura, os juízes serão promovidos para as instâncias superiores seguindo sempre a regra da antiguidade.

**QUESTÃO 38**

A Constituição Federal prevê determinadas atribuições constitucionais como privativas da Câmara dos Deputados e do Senado Federal, as quais são indelegáveis. Essas atribuições **não** incluem o(a)

- Ⓐ autorização para instauração de processo contra o presidente da República.
- Ⓑ elaboração do regimento interno das citadas casas legislativas.
- Ⓒ testemunho a respeito de informações recebidas em razão do exercício do mandato.
- Ⓓ processamento e julgamento dos comandantes do Exército, da Marinha e da Aeronáutica por crimes de responsabilidade conexos com os cometidos pelo presidente da República.

As questões 39 e 40 devem ser respondidas de acordo com o Regimento Interno do Tribunal de Justiça do Estado do Pará.

#### QUESTÃO 39

Antes do início de uma sessão do TJPA, o advogado Lúcio, que residia no Rio de Janeiro e que fora contratado para atuar em um processo que tramitava no tribunal, solicitou preferência de julgamento, pois desejava fazer sustentação oral. Porém, o advogado Caio, que residia em Belém, já havia solicitado a preferência de julgamento, também por desejar proferir sustentação oral. Nessa situação,

- Ⓐ Lúcio pode ter concedida a preferência em prejuízo de Caio, pelo simples fato de residir em local diverso da sede do TJPA.
- Ⓑ nem Lúcio nem Caio podem pedir preferência de julgamento, pois ambos desejam fazer sustentação oral, o que causará demora no julgamento dos seus processos.
- Ⓒ o prazo para Lúcio ou Caio fazerem a sustentação oral será de 20 minutos, caso não haja outro prazo previsto em lei.
- Ⓓ o Ministério Público poderá obter, em decorrência da solicitação de sustentação oral realizada por Lúcio e Caio, prazo em dobro para também fazer sustentação oral.

#### QUESTÃO 40

A Corregedoria de Justiça, dividida para efeito de jurisdição em Corregedoria de Justiça da Região Metropolitana de Belém e Corregedoria de Justiça das Comarcas do Interior do Estado, tem funções administrativas, de orientação, fiscalização e disciplinares, a serem exercidas por dois desembargadores eleitos na forma da lei. Os corregedores de justiça serão auxiliados em suas tarefas por juízes corregedores, sendo dois para cada corregedoria, e exercerão, por delegação, suas atribuições relativas aos juízes de direito e servidores da justiça. A respeito dos juízes corregedores, assinale a opção correta.

- Ⓐ Os juízes corregedores, quando designados, não ficam desligados do exercício de suas varas.
- Ⓑ Os juízes corregedores têm acrescida à remuneração dos seus cargos parcela remuneratória referente à nova função para a qual foram designados.
- Ⓒ Ao final do mandato do corregedor-geral, os juízes corregedores não ficam obrigados a reverterem ao exercício de suas varas, sendo-lhes facultada a escolha de nova vara para servir.
- Ⓓ Os juízes corregedores são escolhidos entre os juízes de direito de entrância final e designados pelo presidente do tribunal, ouvido o Conselho de Magistratura.

## PROVA DISCURSIVA

- Nesta prova — que vale **dez** pontos —, faça o que se pede, usando os espaços indicados no presente caderno para rascunho. Em seguida, transcreva o texto para a **FOLHA DE TEXTO DEFINITIVO DA PROVA DISCURSIVA**, no local apropriado, pois **não serão avaliados fragmentos de texto escritos em locais indevidos**.
- Qualquer fragmento de texto além da extensão máxima de **trinta** linhas será desconsiderado.
- Na **folha de texto definitivo**, identifique-se apenas no cabeçalho da primeira página, pois **não será avaliado** texto que tenha qualquer assinatura ou marca identificadora fora do local apropriado.

Olhar também é perigoso. E caímos no dilema: ver ou não ver?

Ana Miranda. *O oráculo insondável*. In: *Correio Braziliense*, 2/4/2006 (com adaptações).

Se interrogarmos nossa experiência, podemos circunscrever, sem dificuldade, o universo de nossas palavras e concluir que vivemos hoje a lenta agonia ou morte de algumas das que ajudaram a fundar a civilização.

(...)

A prática do sofrimento invalida a própria idéia de civilização. Ou melhor, a sensibilidade enfraquece e exige, paradoxalmente, excitações cada vez mais fortes: esse enfraquecimento é proporcional ao crescimento generalizado da brutalidade. Por que as cidades transformaram-se tão violentamente no espaço do temor e da tristeza?

Adauto Novaes. *Sobre tempo e história*. In: *Tempo e história* (com adaptações).

Tomando os fragmentos acima como motivadores de reflexão e argumentação, redija um texto dissertativo acerca de palavras e ações que contribuem para a justiça social. Em seu texto, inclua, necessariamente:

- ▶ aspectos causadores/estimuladores da injustiça social;
- ▶ possíveis soluções para a diminuição da injustiça social;
- ▶ caracterização/exemplos de justiça social.

1	
2	
3	
4	
5	
6	
7	
8	
9	
10	
11	
12	
13	
14	
15	
16	
17	
18	
19	
20	
21	
22	
23	
24	
25	
26	
27	
28	
29	
30	

